

令和2年度 沖縄県職員採用中級試験問題例題

※ 試験問題の出題形式等の参考にしてください。

【例題1】 2010年代の世界の政治情勢についての用語に関する次の記述ア～エにはその説明として妥当なものが二つある。それらはどれか。

- ア. アラブの春：北アフリカや西アジア地域の国々で本格化した民主化運動で、SNSの普及による情報の拡散により波及した。この運動によりリビアやエジプトでは政権交代が起こり、シリアでは政府と反政府勢力との間で内戦が起こった。
- イ. 一带一路：中国が進めている外交政策である。主に環太平洋諸国との通商関係の強化を図る政策であり、中央アジアや西アジア、アフリカ諸国との通商関係の強化には消極的な姿勢をとっている。
- ウ. アメリカ第一主義：トランプ政権が掲げているスローガンである。このスローガンの下、トランプ政権は貿易について保護主義的な姿勢を強め、また、不法移民の退去を進める方針を示した。
- エ. ブレグジット（Brexit）：イギリスのEU離脱を示す用語である。イギリスのEU離脱の動きに連動し、2018年にはフランスやイタリアなどがEUからの離脱を表明した。

- 1. ア, イ
- 2. ア, ウ
- 3. イ, ウ
- 4. イ, エ
- 5. ウ, エ

(正答2)

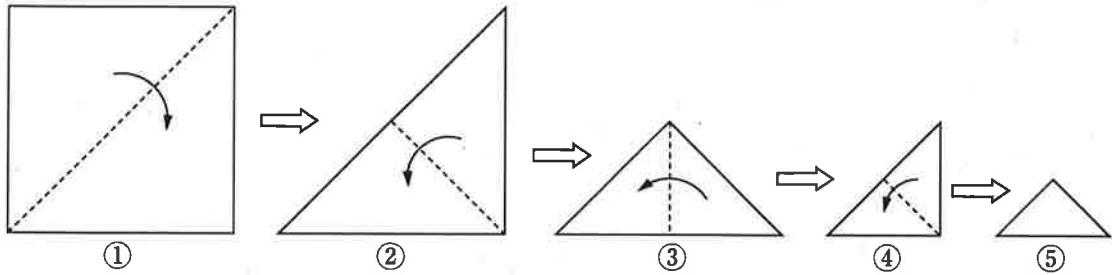
【例題2】 前近代のイスラム世界に関する次の記述のうち妥当なのはどれか。

1. イスラム教は紀元前1000年頃に創始された一神教であり、後に成立したユダヤ教、キリスト教に影響を与えた。
2. イスラム教は、アラビア半島で興り、イスラム教徒による征服活動によってアラビア半島以外の西アジアや北アフリカに急速に広がっていった。
3. イスラム教とキリスト教の聖地の一つであるエルサレムは長らくイスラム勢力の支配下にあったが、イスラム勢力は、キリスト教徒の十字軍に最終的に敗れ、エルサレムを失った。
4. イスラム世界では、商業は蔑視されたためイスラム教徒が積極的に従事することはなく、専らキリスト教徒など異教徒が従事した。
5. 学間について見ると、神学や法学は盛んに研究されたが、医学、数学、天文学などの研究は、イスラム教の教義から禁止されたため行われなかった。

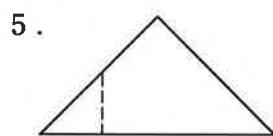
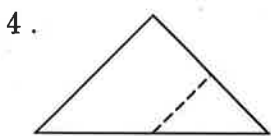
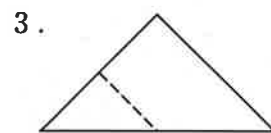
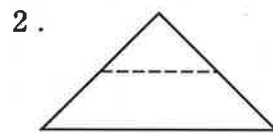
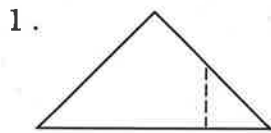
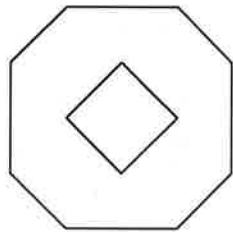
(正答2)

【例題3】 正方形の紙を、図Iのように①～⑤の順番に点線に沿って谷折りにしていく。折り曲げた⑤の紙を、ある直線に沿ってはさみで切り、切り分けられた一方を広げたところ、図IIのようになった。⑤においてはさみを入れた直線を破線で示したものはどれか。

図I



図II



(正答3)

【例題1】 ノイマンが提唱した「沈黙のらせん」仮説の説明として妥当なのはどれか。

1. 政党の民主化については、発言力が大きい政党の幹部ではなく、一般党員や党員以外の者が果たす役割が大きい。
2. 人は、ある争点に関して、自分の立場が社会で少数派であると感じると、公の場での意見表明を控えるようになる。
3. 環境問題については、環境保護について積極的な意見を有さない企業の主張が最も尊重されることが多い。
4. 民主主義国での選挙では、サイレントマジョリティが投票しないことにより、事前の世論調査における多数派が敗北することが多い。
5. 小国の国内政治は、当該小国が民主主義国であっても、他国の無言の圧力によって大多数の民意とは異なる政策が行われがちである。

(正答2)

【例題2】 権利能力のない社団に関する次の記述のうち妥当なのはどれか。ただし、争いがある場合は判例による。

1. 権利能力のない社団といえるためには、団体としての組織を備え、構成員の変更にもかかわらず団体そのものが存続していれば足り、そこで多数決の原則が行われている必要はない。
2. 権利能力のない社団の財産は構成員に総有的に帰属し、各構成員はその出資額に応じて持分権を有する。
3. 権利能力のない社団は、訴訟当事者となることができず、社団の代表者が訴訟当事者とならざるを得ない。
4. 権利能力のない社団が有する不動産については、社団名義で登記することはできず、社団の代表者名義で登記せざるを得ない。
5. 権利能力のない社団の債権者は、社団の財産のみならず、社団の構成員の個人財産にも強制執行することができる。

(正答4)

【例題3】 価格に関する不確実性に直面している競争的かつ危険中立的企業を考える。この企業の生産物の価格は $\frac{1}{2}$ の確率で50, $\frac{1}{2}$ の確率で30となる。この企業の総費用関数は次のように示されるとする。

$$c(x) = x^2 \quad [c: \text{総費用}, x: \text{生産量}]$$

この企業は価格が実現する前に生産量を決めなければならない。このとき最適な生産量として妥当なのはどれか。

1. 10
2. 15
3. 20
4. 25
5. 30

(正答3)